



# PREFEITURA MUNICIPAL DE VIÇOSA/AL

## CONCURSO PÚBLICO

### SERVENTE DE PEDREIRO

TIPO DE PROVA

02

Prefeitura Municipal de Viçosa - AL

**Provas de Português, Matemática e Conhecimentos Gerais.**

#### INSTRUÇÕES GERAIS

01. Leia com atenção todas as instruções deste **Caderno de Questões**.
02. Este Caderno de Questões só deverá ser aberto quando for autorizado pelo Fiscal de Sala.
03. **Assine** neste Caderno de Questões e coloque o número do seu documento de identificação.
04. Verifique se este Caderno de Questões contém 50 (cinquenta) questões com 05 (cinco) alternativas cada, caso contrário comunique imediatamente ao Fiscal.
05. A prova terá a duração de 04 (quatro) horas. Você só poderá sair do Local de Prova 02 (duas) horas após o seu início. Os 03 (três) últimos candidatos só poderão ausentar-se do recinto juntos, após a assinatura da ata.
06. Ao receber a **Folha de Respostas**, confira seu **nome, tipo de prova** e o **número do seu documento de identificação**.
07. Em hipótese alguma lhe será concedida outra Folha de Respostas.
08. Marque suas respostas na Folha de Respostas utilizando caneta esferográfica de tinta azul ou preta, preenchendo completamente o círculo correspondente à alternativa escolhida, conforme modelo: ● .
09. Será atribuído o valor ZERO à questão que contenha na Folha de Respostas de Questões Objetivas: dupla marcação, marcação rasurada ou emendada, não preenchida totalmente ou que não tenha sido transcrita do Caderno de Questões para a Folha de Respostas.
10. A correção das provas será efetuada considerando-se apenas o conteúdo da Folha de Respostas.
11. Caso a Comissão julgue uma questão como sendo nula, seus pontos serão atribuídos à todos os candidatos.
12. Não será permitida qualquer espécie de consulta.
13. Ao terminar a prova, devolva ao Fiscal este Caderno de Questões, juntamente com a Folha de Respostas e assine a **Lista de Presença**.

*Boa Prova!*

Nº do documento de identificação:

Assinatura do candidato:



Maceió/AL, 25 de novembro de 2007







## PORTUGUÊS

As questões de 01 a 05 referem-se ao texto seguinte.

1 “Voltamos a falar sobre violência. E que outro assunto  
mais move ainda a população? Antes a luta era pela  
3 qualidade no ensino, por mais escolas. Faltaram as  
providências necessárias a tempo e a história mudou de  
5 rumo. Hoje, pergunta-se pelas cadeias seguras. Agora, é a  
vida que está sob risco constante. O perigo está na porta  
7 de casa, na esquina do trabalho, no caminho da faculdade,  
em cada esquina. A violência urbana tem assustado o **País**  
9 inteiro. Não é somente Alagoas que sofre com essa doença  
social. Mas somente temos a lamentar que em nosso  
11 Estado, um dos poucos recantos de paz **até** pouco tempo  
atrás, agora seja mais um dominado pelo medo. O primeiro  
13 noticiário do dia **já** começa anunciando mais um assalto a  
ônibus durante a madrugada e **aí** começa o bom dia, que  
15 vai somando assassinatos, roubos e assaltos e isto sem  
que nenhuma autoridade apresente soluções. Somos  
17 duplamente roubados. Primeiro pelo sistema legal que nos  
cobra impostos e não nos supre dos serviços necessários e  
19 depois pelas mãos do crime, nem sempre organizado.  
(Jornal *Alagoas em Tempo*. 4 a 7 out. 2007)

01. Dadas as afirmações seguintes,

- I. Considerando a comparação entre a educação e a violência, o título do texto poderia ser “Antes se lutava por escola”.
- II. Nos seis primeiros períodos, evidencia-se que há uma comparação entre o momento passado e o presente.
- III. Alagoas é um dos Estados mais atingidos pela violência.
- IV. A população é roubada pelos governantes e pelo crime organizado.

verifica-se que

- A) somente uma é verdadeira.
- B) duas são verdadeiras.
- C) três são falsas.
- D) todas são falsas.
- E) todas são verdadeiras.

02. A mudança dos verbos **voltar** (linha 1) e **mover** (linha 2) para o pretérito imperfeito seria

- A) voltaríamos – moveria
- B) voltávamos – moveria
- C) voltaremos – movia
- D) voltávamos – movia
- E) voltaremos – moverá

03. No período “Somos duplamente roubados” (linhas 16-17), têm-se

- A) sujeito simples subentendido e predicado verbal.
- B) sujeito indeterminado e predicado nominal.
- C) sujeito indeterminado e predicado verbo-nominal.
- D) sujeito simples subentendido e predicado nominal.
- E) sujeito indeterminado e predicado verbal.

04. Dadas as afirmações seguintes,

- I. No primeiro período, há um sujeito simples subentendido.
- II. Em “O **primeiro** noticiário do dia” (linhas 12-13), a palavra em negrito é o núcleo do sujeito.
- III. No último período, há cinco palavras que contêm encontro consonantal.
- IV. Em **essa doença** (linha 9), **nosso Estado** (linhas 10-11) e **isto** (linha 15), tem-se três pronomes demonstrativos.

quais são verdadeiras?

- A) I, II e III.
- B) I e III.
- C) I e II.
- D) III e IV.
- E) II e IV.

05. Quanto às palavras em negrito (linhas 8, 11, 13, 14), pode-se dizer que

- A) três delas formam hiato.
- B) uma delas é um monossílabo tônico.
- C) são paroxítonas.
- D) são oxítonas.
- E) são acentuadas pela mesma razão.

06. Assinale a opção incorreta quanto ao uso de **mau** e **mal**.

- A) Não leves a mal o que estou dizendo.
- B) Não admito que falem mal dos meus amigos.
- C) Mal saiu de casa, a chuva começou.
- D) Ele sempre foi mau pagador.
- E) Tem paciência, nem sempre o tempo será mal.

07. Em qual período o verbo *haver* pode ser substituído pelo verbo *fazer*?

- A) Há esperança de aparecerem grandes novidades.
- B) Havia árvores no jardim.
- C) Houve tempo em que tudo era muito diferente.
- D) Daqui a pouco, haverá outra aula.
- E) A aula já acabou há mais de trinta minutos.



08. Uma das palavras em negrito, nos períodos abaixo, não é um substantivo. Assinale a opção em que ela se encontra.

- A) “Causa-me grande **admiração** ele ter conseguido tal **feito**.”
- B) “Mude os hábitos **alimentares** por meio de um melhor **aproveitamento** dos **alimentos**.”
- C) “O Mauro tem um **banco** que pensa no **futuro** dele.”
- D) “**Capacidade** real de **indignação**. Falamos muito e agimos pouco.”
- E) “Tenho **confiança** que a sociedade vai reconhecer cada vez mais o **valor** da verdade.”

09. No período “Não queria emprestar os meus livros”, o pronome é adjetivo porque

- A) se refere ao objeto.
- B) modifica o substantivo que acompanha.
- C) substitui o substantivo.
- D) substitui o adjetivo.
- E) representa a pessoa gramatical.

10. Uma das palavras em negrito, nos períodos abaixo, não é um adjetivo. Assinale a opção em que ela se encontra.

- A) “Para começar essa aventura **homicida**, desliguei tanto o *firewall* quanto o antivírus do sistema.”
- B) “O banho com flores de *capuzin* diminui as cóleras no período **pré-menstrual**.”
- C) “As folhas de **anis** atuam nas articulações. Por isso, ajudam em dores **reumáticas**.”
- D) “Controlar o medo era missão **ingrata**, para não dizer **impossível**.”
- E) “Uma queda de energia nos faz **conscientes** da dívida da eletricidade.”

As questões 11 e 12 referem-se ao fragmento seguinte.

“Com a recente onda de violência no Rio de Janeiro, o sentimento **latente** de insegurança que **assola** os brasileiros voltou à tona com toda força.”

11. Qual opção é denotativamente mais precisa para a palavra **onda** (linha 1)?

- A) intensidade
- B) ímpeto
- C) confusão
- D) complicação
- E) fingimento

12. Qual o significado das palavras em negrito, respectivamente?

- A) maternal – arruína
- B) infantil – destrói
- C) dissimulado – arrasa
- D) disfarçado – aflige
- E) infantil – aflige

A questão 13 refere-se ao texto seguinte.

1 “Quando o bonde ia pôr-se em movimento, o senhor idoso subiu, com a criança. Não havia lugar para os dois, e mesmo a menina somente pôde acomodar-se em meu banco porque uma senhora magra aí consumia pouco espaço. A garota sentou-se a meu lado, o velho dependurou-se no estribo. O bonde seguiu.

7 Notei que a menina levava um pacote de balas, e que com o velho iam vários embrulhos; entre eles, um guarda-chuva. Não sabendo que fazer dos acessórios, e desistindo de ordená-los, o velho resignou-se ao mínimo de desconforto na viagem. Tinha os movimentos tolhidos, e o condutor aproximava-se, a mão tilintando níqueis. Era de prever a dificuldade da operação a que se via obrigado: libertar dois dedos da mão direita, enfiá-los no bolso do colete, e extrair desse secreto lugar as moedas devidas.

17 No bonde em que viajávamos, a posição do pingente oferece perigo. O bonde segue paralelo e rente ao passeio, e os postes, no momento preciso em que passa o bonde, deslocam-se imperceptivelmente para mais perto dele. O deslocamento de alguns milímetros é, às vezes, mortal. Todos os que viajam de pé sabem disso. Os que morrem têm tempo de verificar o fenômeno, porém não de evitá-lo.”

(Carlos Drummond de Andrade)

13. Assinale a opção incorreta.

- A) Se o velho tivesse mais de um **guarda-chuva**, o plural seria **guarda-chuvas**.
- B) As palavras **viajávamos** e **imperceptivelmente** têm, respectivamente, cinco e sete sílabas.
- C) Em “Não havia lugar para os dois” (linha 2), há uma oração sem sujeito.
- D) Em “A posição do pingente oferece perigo” (linhas 16-17), o predicado é verbo-nominal.
- E) No último período: “Os que [...] evitá-lo” (linhas 21-22), há um dígrafo consonantal.

14. Assinale a opção que preenche adequadamente as lacunas dos períodos abaixo.

- I. “\_\_\_\_\_ não adotar atitude justa e legal tanto para a empresa aérea quanto para seus passageiros?”
- II. “Entendo que a aspiração brasileira de ter um assento permanente no Conselho de Segurança da ONU seja legítima, mas não realista. E não \_\_\_\_\_ colocaria o Brasil em oposição à Itália, mas \_\_\_\_\_ divide a América Latina.”
- III. “O excesso de dinheiro e a falta de cuidado deram início aos problemas \_\_\_\_\_ passam as bolsas mundiais.”

- A) Por quê – por quê – porque – por que
- B) Por que – porquê – por que – porque
- C) Por que – porque – por que – porque
- D) Por que – porque – porque – por que
- E) Por quê – por que – porque – por que



15. Assinale a opção que indica, respectivamente, a classificação dos pronomes em negrito, no período seguinte.

“Os pais temem **que seus** filhos fiquem aquém das **outras** crianças, então criam **todo** tipo de atividades intelectuais, cursos de arte, música, reforço da escola. **Tudo** para que eles estejam sempre à frente.”

- A) relativo; demonstrativo; possessivo; indefinido; indefinido.
- B) interrogativo; possessivo; demonstrativo; indefinido; indefinido.
- C) indefinido; possessivo; possessivo; relativo; demonstrativo.
- D) relativo; demonstrativo; demonstrativo; indefinido; possessivo.
- E) relativo; possessivo; indefinido; indefinido; indefinido.

16. Para indicar que se vai seguir uma explicação,

- A) usam-se dois pontos.
- B) usa-se ponto-e-vírgula.
- C) usam-se aspas.
- D) usa-se vírgula.
- E) usa-se travessão.

As questões 17 e 18 referem-se ao fragmento seguinte.

“Muitos pais que tiveram infância difícil tendem a querer dar aos filhos o que não tiveram. Essa atitude **é arriscada**: pode estimular um comportamento consumista.”

17. Qual a idéia expressada pelos dois pontos no fragmento acima?

- A) Indicar uma citação.
- B) Indicar uma pausa longa.
- C) Indicar uma enumeração.
- D) Indicar uma explicação.
- E) Indicar uma causa.

18. Qual oração abaixo tem o mesmo tipo de predicado que o da expressão em negrito (linha 2)?

- A) O menino chegou ferido.
- B) Ele partiu feliz.
- C) Meu gato apareceu acuado.
- D) O dia amanheceu luminoso.
- E) Ele continua persistente.

As questões 19 e 20 referem-se ao texto abaixo.

“O bom uso da **língua** \_\_\_\_\_ na carreira. Um estudo feito em 39 empresas americanas mostrou que a chance de \_\_\_\_\_ profissional **está** diretamente ligada ao vocabulário que a pessoa domina. Quanto maior seu repertório, mais competência e segurança ela terá para \_\_\_\_\_ novas **idéias** e falar em público.”

19. Assinale a opção que completa adequadamente as lacunas do texto.

- A) influi – ascensão – absorver
- B) influe – assensão – absorver
- C) influe – ascensão – absorver
- D) influe – ascensão – absolver
- E) influi – ascensão – absolver

20. As palavras em negrito (linhas 1, 3 e 5) são, respectivamente,

- A) paroxítona terminada em **a**; monossílaboônico; ditongoônico aberto.
- B) paroxítona terminada em ditongo decrescente; oxítona terminada em **a**; paroxítona terminada em **s**.
- C) paroxítona terminada em ditongo crescente; oxítona terminada em **a**; ditongoônico aberto.
- D) paroxítona terminada em ditongo decrescente; monossílaboônico; paroxítona terminada em **s**.
- E) paroxítona terminada em ditongo crescente; monossílaboônico; ditongoônico aberto.



**MATEMÁTICA**

21. Uma TV de 29 polegadas custa R\$ 997,00 à vista ou, então, em 15 parcelas iguais a R\$ 77,57. A diferença entre o total a prazo e o preço à vista é de

- A) R\$ 166,55.
- B) R\$ 182,35.
- C) R\$ 170,35.
- D) R\$ 144,55.
- E) R\$ 150,55.

22. Para colocar cerâmica em  $\frac{5}{7}$  de um pátio, foram utilizados 46.360 cerâmicas. Quantas cerâmicas serão necessárias para colocar em  $\frac{3}{8}$  do mesmo pátio?

- A) 24.335
- B) 24.339
- C) 23.339
- D) 23.239
- E) 25.339

23. Considere que a decomposição em fatores primos dos números P e Q são dadas por  $P=3^2 \times 2$  e  $Q=2^2 \times 3^2$ . Nessas condições, qual o máximo divisor comum entre os números P e Q?

- A) 36
- B) 16
- C) 32
- D) 18
- E) 27

24. Ao comprar uma camiseta, pagando à vista, obtive um desconto de 20% sobre o preço da vitrine. Se paguei R\$ 30,00 pela camiseta, qual era o preço original?

- A) R\$ 37,80
- B) R\$ 37,50
- C) R\$ 39,00
- D) R\$ 39,50
- E) R\$ 37,40

25. Um comerciante comprou 85 CD de um grande sucesso musical por R\$ 718,25. O comerciante vendeu todos eles na feira de Viçosa e arrecadou R\$ 1.232,50. Qual o lucro do comerciante?

- A) R\$ 514,25
- B) R\$ 514,35
- C) R\$ 514,75
- D) R\$ 514,65
- E) R\$ 514,15

26. No rótulo de uma lata de óleo de soja está escrito que a lata contém 900 ml de óleo. Quantos ml faltam para completar um litro?

- A) 10 ml
- B) 1000 ml
- C) 100 ml
- D) 0,1 ml
- E) 0,01 ml



27. Na casa da família de meu amigo somente o pai dele trabalha e recebe salário. Além de gastar R\$ 3.000,00 com as despesas da casa e ficar com R\$ 1.200,00 para gastar, ele dá uma mesada de R\$ 1.350,00 para sua esposa e de R\$ 270,00 para cada um de seus cinco filhos. Qual o salário do pai de meu amigo?

- A) R\$ 6.700,00
- B) R\$ 6.900,00
- C) R\$ 6.300,00
- D) R\$ 7.000,00
- E) R\$ 6.800,00

28. Um técnico da CASAL, chegando a um reservatório de água na cidade de Viçosa, verificou que ele estava com apenas  $\frac{4}{6}$  de sua capacidade total de armazenamento. Se a capacidade total do reservatório é 2952 litros de água, é correto afirmar que o técnico encontrou no reservatório

- A) 1835 litros de água.
- B) 1964 litros de água.
- C) 1968 litros de água.
- D) 1966 litros de água.
- E) 1962 litros de água.

29. Maria pediu a seu marido que comprasse 35 caixas de sabão em pó no Mercado Público de Maceió. O marido de Maria encontrou no primeiro armazém apenas  $\frac{2}{7}$  da quantidade que sua mulher solicitou. Antes de voltar para casa, ele passou em outro armazém e encontrou  $\frac{3}{7}$  da quantidade solicitada inicialmente. Se ele realizou a compra da quantidade encontrada nos dois armazéns, quantas caixas de sabão levou para casa?

- A) 15
- B) 30
- C) 25
- D) 28
- E) 19

30. Na feira de Viçosa, um quilo de carne custa R\$ 8,00. Maria comprou 850 gramas dessa carne na feira. Quanto ela pagou pela carne?

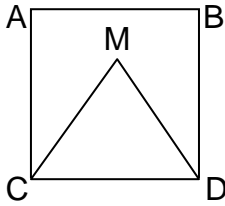
- A) R\$ 7,30
- B) R\$ 5,80
- C) R\$ 7,80
- D) R\$ 6,80
- E) R\$ 6,60

31. Em uma padaria trabalham 7 balconistas que ganham R\$ 450,00 por mês, 2 gerentes que ganham R\$ 800,00 por mês e um padeiro que ganha R\$ 1.200,00 por mês. Qual o valor da folha de pagamento dessa padaria?

- A) R\$ 5.950,00
- B) R\$ 6.010,00
- C) R\$ 5.730,00
- D) R\$ 6.012,00
- E) R\$ 5.740,00



32. Seja  $M$  um ponto no interior do quadrado  $ABCD$ , de tal forma que  $\triangle MCD$  seja um triângulo com lados iguais, isto é,  $MC = MD = CD$ . Se o quadrado mede 2 cm, é correto afirmar que



- A) a área do triângulo  $MCD$  é igual a  $6\sqrt{3} \text{ cm}^2$ .
- B) a área do triângulo  $MCD$  é igual a  $3\sqrt{3} \text{ cm}^2$ .
- C) a área do triângulo  $MCD$  é igual a  $4(1 - \sqrt{3}) \text{ cm}^2$ .
- D) o número que representa a área do triângulo é maior que 10.
- E) o número que representa a área do triângulo é um número inteiro.

33. Em um leilão de animais Paulo comprou uma vaca por R\$ 2.300,00, um porco por R\$ 756,00 e cinco bodes por R\$ 530,00 cada um. Sabendo-se que Paulo dispunha de R\$ 8.006,00, é correto afirmar:

- A) Após pagar suas compras, Paulo ficou com R\$ 2.306,00.
- B) Após o pagamento das compras feitas no leilão, Paulo ficou com R\$ 2.300,00.
- C) Paulo gastou em suas compras menos de 50% do total que ele tinha.
- D) Paulo gastou R\$ 5.700,00 em suas compras.
- E) O número que representa a quantia gasta por Paulo no leilão é um número ímpar.

34. Seja  $X = (2,5 : 5 + 32 : 0,8) : 0,9$ . Pode-se afirmar que o valor de  $X$  é

- A) igual a 43.
- B) um número par.
- C) divisível por 10.
- D) igual a 45,5.
- E) igual a 45.

35. Um comerciante vende  $\frac{1}{3}$  de uma peça de fio elétrico e, depois,  $\frac{2}{5}$  da mesma peça. O comerciante verificou que sobraram 36 metros de fio nessa peça. Nessas condições, é correto afirmar:

- A) O comerciante vendeu  $\frac{10}{15}$  da peça de fio.
- B) A quantidade de fio que o comerciante vendeu foi de 98 m.
- C) A peça inteira de fio tinha 134 m.
- D) Os 36 metros restantes de fio correspondem a  $\frac{3}{15}$  da peça.
- E) A peça de fio tinha 135 metros.





36. Um garoto estava viajando a pé em uma estrada. Ao encontrar um senhor, perguntou quantos quilômetros faltavam para chegar à cidade. O senhor respondeu: a quantidade de quilômetros que falta para você chegar à cidade é  $(14,7 + 3,01) \times (15,3 - 8)$ . Quantos quilômetros o garoto deverá andar para chegar à cidade?

- A) 129,183 km
- B) 130 km
- C) 129,283 km
- D) 119,283 km
- E) 130,183 km

37. Pedro é 16 anos mais velho que João. Se a idade de Pedro é o triplo da idade de João, pode-se afirmar que

- A) João tem mais de 10 anos.
- B) Pedro tem 24 anos e João 8 anos.
- C) Pedro tem 27 anos.
- D) João tem 10 anos.
- E) a idade de Pedro é 23 anos e a de João é 7 anos.

38. Associe a segunda coluna de acordo com a primeira.

- |                           |             |
|---------------------------|-------------|
| ( 1 ) $\overline{VXI}$    | (   ) 2096  |
| ( 2 ) $\overline{XIXCXL}$ | (   ) 1900  |
| ( 3 ) MCM                 | (   ) 1550  |
| ( 4 ) MMXCVI              | (   ) 19140 |
| ( 5 ) MDL                 | (   ) 5011  |

A seqüência correta para o preenchimento da segunda coluna é

- A) 4 – 5 – 3 – 2 – 1.
- B) 5 – 3 – 2 – 4 – 1.
- C) 2 – 1 – 5 – 3 – 4.
- D) 4 – 3 – 2 – 5 – 1.
- E) 4 – 3 – 5 – 2 – 1.

39. Enumere a segunda coluna de acordo com a primeira.

- |                |                         |
|----------------|-------------------------|
| ( 1 ) 4,351 km | (   ) 13,8 km           |
| ( 2 ) 13.800 m | (   ) 9.857 dm          |
| ( 3 ) 28,85 dm | (   ) 435,1 dam         |
| ( 4 ) 9,857 hm | (   ) 3 dm <sup>3</sup> |
| ( 5 ) 3 litros | (   ) 2.885 mm          |

A seqüência correta para o preenchimento da segunda coluna é

- A) 2 – 1 – 3 – 5 – 4.
- B) 2 – 4 – 1 – 5 – 3.
- C) 3 – 5 – 2 – 1 – 4.
- D) 4 – 2 – 1 – 5 – 3.
- E) 2 – 3 – 1 – 5 – 4.

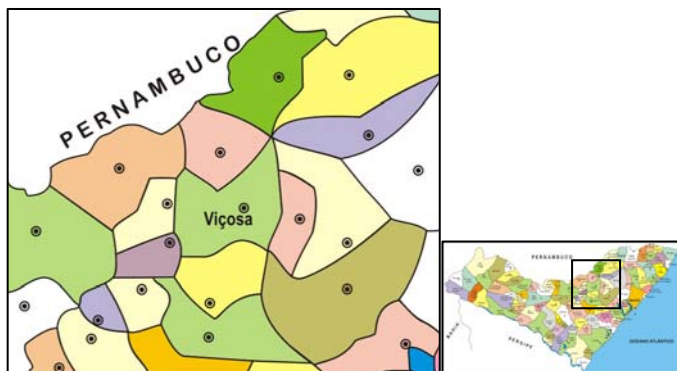


40. Uma caixa d'água da cadeia de Murici tem a forma de um cubo. Se a aresta desse cubo é 1,2 m, quantos litros de água serão necessários para encher totalmente a caixa d'água?

- A) 1721 litros
- B) 1729 litros
- C) 1728 litros
- D) 1730 litros
- E) 1726 litros

## CONHECIMENTOS GERAIS

41. Identifique no mapa abaixo os municípios que limitam Viçosa e marque a opção correta.



- A) Cajueiro, Mar Vermelho, Pindoba, Capela e Paulo Jacinto.
- B) Quebrangulo, Pindoba, Mar Vermelho, Chã Preta e Capela.
- C) Chã Preta, Atalaia, Capela, Pindoba e Cajueiro.
- D) Chã Preta, Capela, Cajueiro, Pindoba, Mar Vermelho e Paulo Jacinto.
- E) Capela, Quebrangulo, Cajueiro, Pindoba e Mar Vermelho.

42. Em 1890, o primeiro Governador de Alagoas, o Coronel Pedro Paulino da Fonseca, decidiu trocar o nome da Cidade Vila da Assembléia para Viçosa, em virtude de um fator natural dominante no município. Marque a opção que contém o fator responsável pelo acontecimento.

- A) As terras férteis e muito produtivas.
- B) A presença do rio Paraíba do Meio.
- C) O berço de intelectuais e do folclore.
- D) A Escola Normal de Viçosa e sua cultura.
- E) O crescimento urbano da Vila da Assembléia.

43. O território de Viçosa é drenado pela bacia hidrográfica do Rio Paraíba do Meio que possui a queda d'água Dois Irmãos e as Cachoeiras

- A) Caçamba e Paraíba.
- B) Grande e do Meio.
- C) Dois Irmãos e Paraíba.
- D) Grande e Sabalangá.
- E) Grande e Caçamba.

44. A usina hidrelétrica de "Angiquinho", a primeira da América Latina, está localizada no município alagoano de

- A) Delmiro Gouveia.
- B) Mata Grande.
- C) Piranhas.
- D) Água Branca.
- E) Olho d'água do Casado.



**45.** A Serra da Barriga é um acidente geográfico e um dos pontos turísticos do Estado de Alagoas, onde ergueu-se um histórico quilombo. A Serra está localizada

- A) no município de Piranhas.
- B) em Delmiro Gouveia.
- C) no município de Palmeira dos Índios.
- D) no município de União dos Palmares.
- E) na região serrana de Viçosa.

**46.** Sobre papel desempenhado por Manoel Francisco no povoamento de Viçosa, pode-se afirmar:

- A) Era um padre com a função de organizar a vida religiosa de Viçosa.
- B) Desenvolveu a agricultura em Viçosa, em especial a cultura de algodão.
- C) Por ter sido um dos primeiros moradores de Viçosa, assumiu o cargo de prefeito, após a emancipação política.
- D) Foi um importante senhor de engenho, capaz de organizar a produção açucareira em Viçosa.
- E) Lutou contra os holandeses, sendo responsável pela prisão de Calabar.

**47.** Sobre o povoamento do interior de Alagoas, sobretudo a região correspondente à Atalaia e Viçosa, é incorreto afirmar:

- A) A existência do Quilombo de Palmares representava perigo constante ao desenvolvimento de núcleos povoadores, sobretudo quando baseados no engenho e escravidão, pois o perigo de ataques e libertação de escravos era constante.
- B) Em sua história, o município de Viçosa possui como primeiros povoadores gente simples com origens em remanescentes de populações indígenas e quilombolas que migraram para a região do Riacho do Meio e ali se fixaram.
- C) Atalaia tem suas origens no processo de destruição do Quilombo de Palmares, sendo apenas possível um núcleo populacional com seu porte no interior quando exterminado o perigo quilombola.
- D) Podemos identificar historicamente a região dos municípios de Atalaia e Viçosa como segundo núcleo de povoamento no território alagoano.
- E) Embora o Quilombo de Palmares tenha sido derrotado pelo processo colonizador de Portugal e das elites coloniais açucareiras, ainda hoje se mostra muito viva como símbolo da resistência negra no Brasil.

**48.** Entre os vários escritores alagoanos, podemos identificar sua obra São Bernardo como uma literatura histórica capaz de evidenciar aspectos do cotidiano rural e urbano em Viçosa. O escritor ao qual nos referimos é:

- A) Nise da Silveira.
- B) Jorge Amado.
- C) Graciliano Ramos.
- D) José Lins do Rego.
- E) Euclides da Cunha.

**49.** Entre os vários fatores importantes que possibilitaram o povoado de Riacho do Meio ser a primitiva cidade de Viçosa, é correto afirmar:

- A) O antigo povoado de Riacho do Meio era ponto de passagem para as regiões mais distantes como o sertão. Essa posição possibilitou o comércio e a agricultura que logo criaram condições para o crescimento do povoado, sendo hoje cidade.
- B) Tem suas origens em um antigo engenho de açúcar que devido ao crescimento de sua produção possibilitou desenvolver uma cidade.
- C) A proximidade com o povoamento de Atalaia não trouxe nenhuma influência desta sobre a organização administrativa de Viçosa.
- D) O povoado tem suas origens em um assentamento jesuíta.
- E) Surgimento de igreja e cruzeiro não colaboram para interpretação de versões sobre as origens do povoado Riacho do Meio, sendo no século XIX vila.

**50.** Territorialmente, Alagoas pertenceu à Capitania

- A) da Bahia, possibilitando o amplo desenvolvimento comercial e a presença de vários engenhos somente ao sul do atual estado de Alagoas.
- B) de Pernambuco, sendo importante região produtora de açúcar e extração de madeiras.
- C) de Pernambuco, que limitou a economia alagoana a somente o desenvolvimento do comércio.
- D) de Sergipe, possibilitando o plantio de fumo na região de Arapiraca, expandindo esse tipo de agricultura por todo território alagoano.
- E) da Paraíba, cuja influência ainda hoje pode ser percebida em nomes de rios existentes em Alagoas.



[www.copeve.ufal.br](http://www.copeve.ufal.br)

**ATENÇÃO!**

É proibido o destaque desta folha com o GABARITO da sua prova, sob pena de eliminação do processo.

**Gabarito do Candidato**

1	2	3	4	5	6	7	8	9	10	11	12	13	14	15	16	17	18	19	20	21	22	23	24	25
26	27	28	29	30	31	32	33	34	35	36	37	38	39	40	41	42	43	44	45	46	47	48	49	50

*Este GABARITO apenas poderá ser devolvido ao candidato pelo Fiscal de Sala.*

**Realização:**



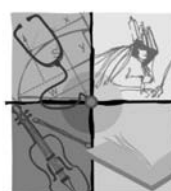
**FUNDEPES**

**www.fundepes.br**



um **novo** estado de **espírito**

**45 anos**



*viva*  
**UFAL**  
Universidade Federal de Alagoas

**www.ufal.br**